

ALUNO (A):

Nº

TURMA: 14__

Valor: 10,0

DISCIPLINA: GEOGRAFIA

TRIMESTRE: 1º

PROFESSOR (A):

DATA: / / 2020

TRABALHO DE GEOGRAFIA

Você conhece a canção **Aquarela** cantada por Toquinho e escrita por Vinícius de Moraes?

Aquarela

Numa folha qualquer eu desenho um Sol amarelo
E com cinco ou seis retas é fácil fazer um castelo
Corro o lápis em torno da mão e me dou uma luva
E se faço chover, com dois riscos tenho um guarda-chuva
Se um pinguinho de tinta cai num pedacinho azul do papel
Num instante imagino uma linda gaivota a voar no céu

Vai voando, contornando a imensa curva norte-sul
Vou com ela viajando Havaí, Pequim ou Istambul
Pinto um barco a vela branco navegando
E tanto céu e mar num beijo azul




Entre as nuvens vem surgindo um lindo avião rosa e grená
Tudo em volta colorindo, com suas luzes a piscar
Basta imaginar e ele está partindo, sereno e lindo
E se a gente quiser ele vai pousar

Numa folha qualquer eu desenho um navio de partida
Com alguns bons amigos bebendo de bem com a vida
De uma América a outra consigo passar um segundo
Giro um simples compasso e num círculo eu faço o mundo

Um menino caminha caminhando chega no muro
E ali logo em frente a esperar pela gente o futuro está
E o futuro é uma astronave que tentamos pilotar
Não tem tempo nem piedade nem tem hora de chegar
Sem pedir licença muda nossa vida
Depois convida a rir ou chorar

Nessa estrada não nos cabe conhecer ou ver o que virá
O fim dela ninguém sabe bem ao certo onde vai dar
Vamos todos numa linda passarela
De uma aquarela que um dia enfim
Descolorirá

Numa folha qualquer eu desenho o sol amarelo
Que descolorirá
E com cinco ou seis retas é fácil fazer um castelo
Que descolorirá
Giro um simples compasso e num círculo eu faço o mundo
Que descolorirá



Aquarela, Morra; Fabrizio: Toquinho: Vinicius de Moraes
1982, Tonga Editorial Ltda, BMG Music Publishing Brasil/
V.M. Empreendimentos Artísticos e Culturais.

QUESTÃO 1

A letra da canção “Aquarela” fala do **continente onde moramos**.

Sublinhe, no texto, o verso que destaca este continente e faça uma bela ilustração para representá-lo.

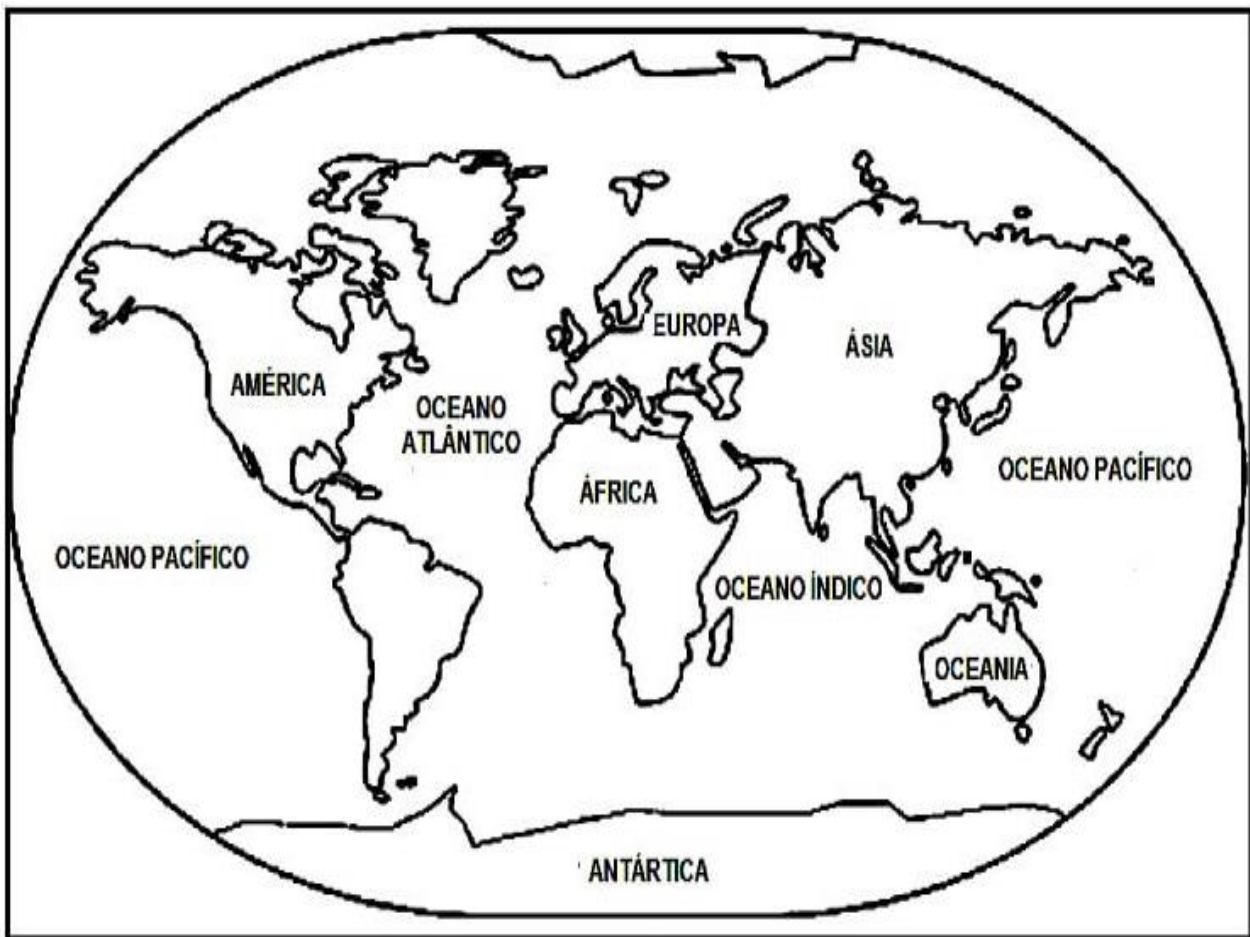
(1,0 - pontos)

QUESTÃO 2

Na segunda estrofe da canção “Aquarela”, Vinícius de Moraes relata **uma viagem ao Havaí, a Pequim ou a Istambul**.

➤ Pesquise onde fica cada uma dessas localidades e faça o que se pede. (1,0 - ponto)

- Pinte de amarelo **o continente** onde encontramos o Havaí.
- Pinte de azul **o continente** onde encontramos Istambul.
- Pinte de verde **o continente** onde encontramos Pequim.



QUESTÃO 3


Durante as aulas de Geografia, ouvimos e cantamos a canção “Ora Bolas”, do grupo Palavra Cantada. Vamos lembrar?

MÚSICA ORA BOLAS (Palavra Cantada)

OI, OI, OI... OLHA AQUELA BOLA
A BOLA PULA BEM NO PE, NO PE DO MENINO



QUEM É ESSE MENINO!
ESSE MENINO É MEU VIZINHO!
ONDE ELE MORA!
MORA LA NAQUELA CASA!
ONDE ESTA A CASA!
A CASA TA NA RUA!
ONDE ESTA A RUA!
TA DENTRO DA CIDADE!
ONDE ESTA A CIDADE!
DO LADO DA FLORESTA!
ONDE É A FLORESTA!
A FLORESTA É NO BRASIL!
ONDE ESTA O BRASIL,



TA NA AMERICA DO SUL CONTINENTE AMERICANO CERCADO
DE OCEANO DAS
TERRAS MAIS DISTANTES DE TODO O PLANETA
E COMO É O PLANETA! O PLANETA É UMA BOLA QUE REBOLA
LA NO CEU (BIS)

Ao falar do continente da América do Sul, a música retrata os **oceanos que o cercam**.

- Pesquise quais são **os oceanos que banham a América do Sul** e escreva seus nomes no mapa abaixo. (1,0 - ponto)



QUESTÃO 4

Ao lermos o último verso da música **“Ora Bolas”**, relacionamos a frase **“O planeta é uma bola, que rebola lá no céu”**, a ideia dos movimentos que nosso planeta faz ao redor do Sol e ao redor de si mesmo.

Recorte e cole imagens que representem estes movimentos. (2,0 – pontos)

QUESTÃO 5

De acordo com os estudos feitos em sala de aula, responda as questões abaixo. (1,0 – ponto)

➤ Você conhece seu vizinho? Como é o nome dele?

➤ Ele mora: ao norte, ao sul, a leste ou a oeste da sua casa?

➤ Sua casa fica em que bairro da cidade?

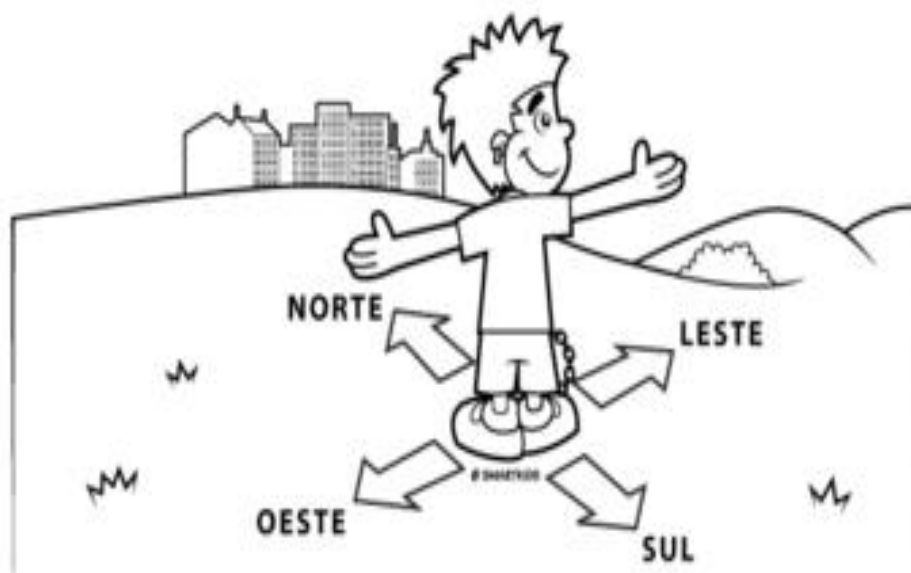
➤ Sua casa está localizada em que zona da cidade?

() Zona norte

() Zona sul

() Zona leste

() Zona oeste



QUESTÃO 6

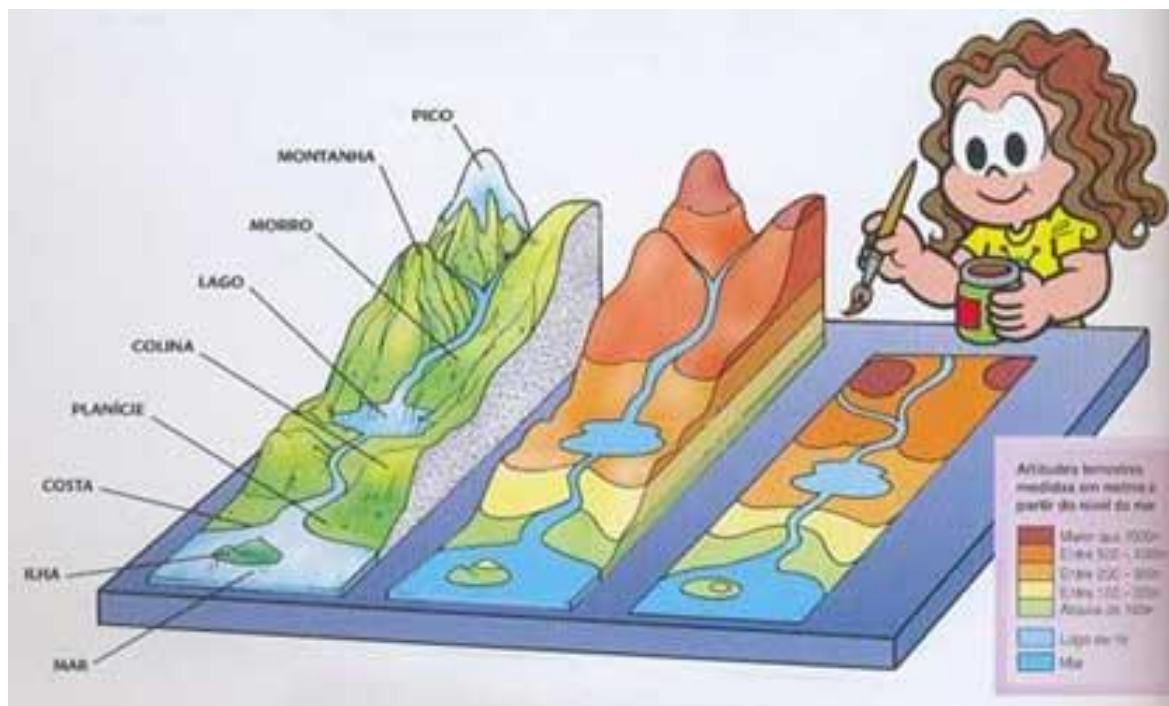
Agora, use sua imaginação e faça um croqui representando a música “**Ora Bolas**”, do grupo **Palavra Cantada**. (2,0 - pontos)

Palavras-chaves: menino, casa, rua, cidade, floresta.

QUESTÃO 7

Marina, personagem das Histórias em Quadrinhos da Turma da Mônica, está empenhada em um trabalho que irá apresentar para a turma e sua professora, na aula de Geografia.

Vamos ajudar Marina a estudar algumas questões que precisará falar durante sua apresentação sobre o conteúdo “Relevo”. (2,0 - pontos)



➤ Na apresentação do trabalho, Marina precisará dizer à turma:

- A forma de relevo predominante do Brasil: _____.
- A forma de relevo predominante da cidade de Manaus: _____.
- O nome da maior montanha de nosso país: _____.
- Por que os seres humanos modificam as características do relevo?

Cuidar da Terra, é proteger a vida!!!

